

PROBLEMAK 3

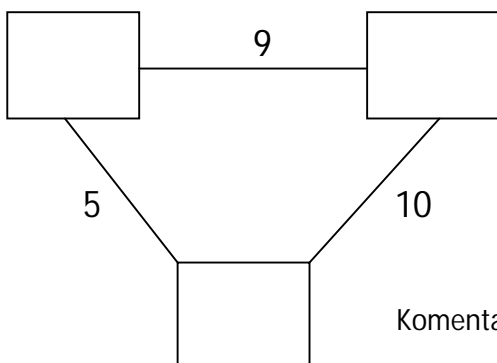
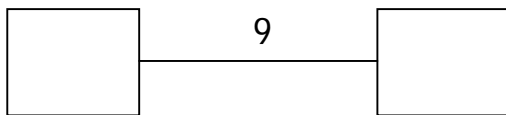
IZENA:..... MAILA:.....

1.- Saskibaloia partida batean jokalariek 3 puntuko 4 saskiratze lortu dituzte, 2 puntuko 9 saskiratze, eta puntu 1eko 5 saskiratze. Posiblea bada, erantzun galdera hauek behar diren eragiketarik egiten.

- ✓ Zenbat puntu lortu dituzte 3 puntuko jaurtiketetan
- ✓ Zenbat puntu lortu zuten bere taldeak?
- ✓ Zenbat puntu lortu zuten 2 eta puntu 1eko jaurtiketetan?
- ✓ Zenbat puntu lortu zuten guztira?
- ✓ Egin zuk beste galdera bat eta erantzun.



2.- Zein zenbaki jarri behar dira laukitxoetan? Bi laukitxo bakoitza lotzen dituen marraren ondoan agertzen dena da. Bilatu kasu bakoitzean dauden erantzun guztiak





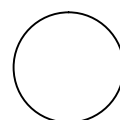



Komentatu zuen artean nola lortu duzuen.

3.- Poltsikoan 10, 20 eta 50 zentimoko txanpon batzuk ditut. Adierazi taula honetan zenbat diru batu ahal dudan 3 txanpon ateratzen baditut. Adierazi dauden posibilitate guztiak.

10 zentimo	20 zentimo	50 zentimo	Guztira



4.- Hartu 5 txanpon edo partxiseko fitxa eta kokatu irudian agertzen den moduan.



Txanpon 1 bakarrik mugituz, 4 txanponeko 2 lerro lortu behar dituzu.